

## Cahier d'histoire

**Numéro d'inventaire** : 2015.8.4885

**Auteur(s)** : Simon Gouillard

**Type de document** : travail d'élève

**Période de création** : 1er quart 21e siècle

**Date de création** : 2002 (entre) / 2003 (et)

**Matériau(x) et technique(s)** : papier ligné, carton

**Description** : Cahier agrafé, couverture cartonnée bleu foncé avec des lignes de mots en bleu plus clair et une bande noire horizontale au milieu, 1ère de couverture avec en haut en blanc et gris "yes ya oui si" superposés dessous un oiseau blanc avec un feuillage vert dans le bec, en dessous, chevauchant la bande noire un faux papier jaune sur lequel est imprimé un extrait de la Déclaration des Droits de L'Homme et du Citoyen, en bas "No, Non Nein". 4e de couverture avec "yes ya si oui" et "no, non, nein" au-dessus et au-dessous de la bande noire. Réglure seyes, encre bleue, verte, rouge, feutre violet, crayons de bois et de couleur. 15 photocopiés collés.

**Mesures** : hauteur : 29,5 cm ; largeur : 20,8 cm

**Notes** : Cahier de leçons d'histoire: la fin de l'Antiquité, l'empire byzantin, le monde musulman, l'empire carolingien, histoire des Francs, l'Eglise en Occident du XIe au XIIe siècles, les arts roman et gothique dans l'architecture, la société médiévale.

**Mots-clés** : Histoire et mythologie

**Filière** : Lycée et collège classique et moderne

**Niveau** : 5ème

**Autres descriptions** : Nombre de pages : Non paginé.

Commentaire pagination : 38 p. manuscrites sur 104 p.

Langue : français.

couv. ill. en coul.

ill. en coul. : Cartes coloriées par l'élève.

GOUTARD

Simon

5° 6

Cahier

d'histoire

Inscrip

année 2002 - 2003

La fin de l'antiquité

Un commentaire de carte

a) l'empire romain au II<sup>e</sup> siècle

l'empire romain s'étend au tour du bassin méditerranéen de l'Écosse au nord jusqu'aux côtes nord africaines et du proche orient jusqu'à l'atlantique.

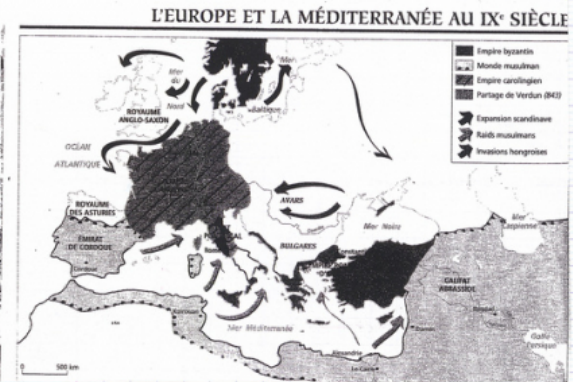
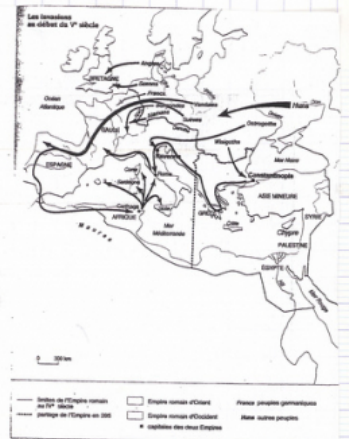
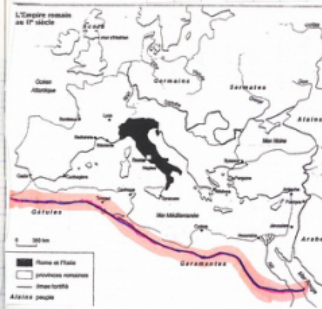
b) Les invasions du début du I<sup>er</sup> siècle  
Qu'arrive-t-il à l'empire romain?

Après avoir été séparé en 2 en 395 l'Empire Romain d'Occident subit les invasions barbares et disparaît en 476. L'Empire Romain d'Orient résiste à une moindre pression et se maintient.

c) le bassin méd. au IX<sup>e</sup>

Qui sont les principaux occupants et où sont-ils situés?

Les principaux occupants sont : les romains, les musulmans et les barbares. Les romains habitent sur tous le pourtour méditerranéen, les musulmans en Asie et les barbares dans les pays froids scandinaves.

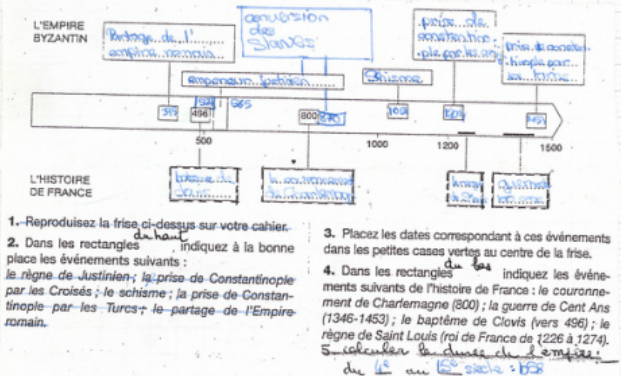




L'empire byzantin

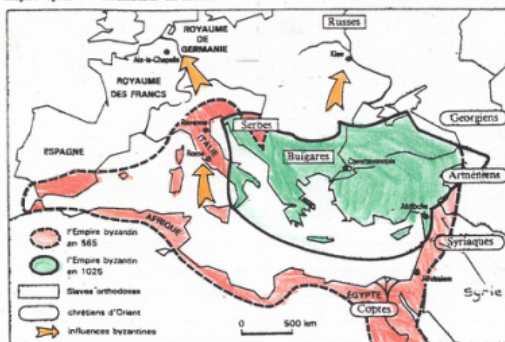
1000 ans de civilisation

A) Compléter une chronologie



Un empire civilisateur mérovingien

L'Empire byzantin : civilisateur du monde slave et de l'Orient



1. Je colore en rouge l'Empire byzantin en 1025 à la mort de Basile II. Je repasse en vert les limites de l'Empire byzantin en 565 puis je colore en vert les parties perdues de 565 à 1025.
2. Je complète :  
L'Empire byzantin a perdu entre 565 et 1025 : le nord de l'Italie... ainsi que les régions conquises par les musulmans : le sud de l'Espagne... l'Afrique du nord, l'Égypte... et la Syrie...
3. Je repasse en noir les cadres.
4. Je complète :  
Byzance a perdu des territoires mais a répandu sa civilisation en christianisant les Slaves : les Russes... les Serbes... et les Bulgares... Son influence s'étend aussi sur les chrétiens d'Orient d'Orient. Son art et sa pensée ont influencé en Europe l'Italie... la Danemark... et les Russes... La liturgie des Byzantins est le grec. L'Église orthodoxe... est séparée de... depuis le schisme de 1054.